

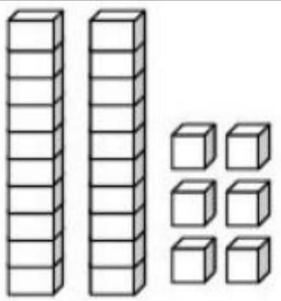
Escola _____

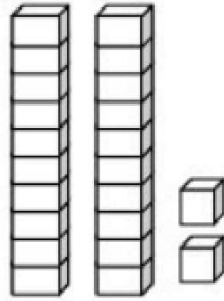
Aluno: _____

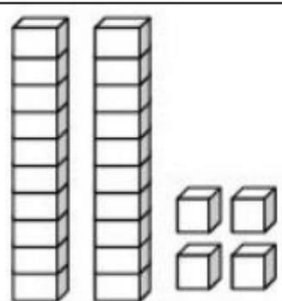
Data: ____/____/____ Professor(a): _____

Matemática – 3º Ano

1. ESCREVA O NÚMERO CORRESPONDENTE AO MATERIAL DOURADO.

A)  _____

B)  _____

C)  _____

2. CALCULE AS UNIDADES, DEZENAS E CENTENAS A SEGUIR:

A) 1 CENTENA + 2 DEZENAS + 4 UNIDADES = _____

B) 1 CENTENA + 4 DEZENAS + 7 UNIDADES = _____

C) 1 CENTENA + 5 DEZENAS + 5 UNIDADES = _____

D) 1 CENTENA + 9 DEZENAS + 2 UNIDADES = _____

E) 1 CENTENA + 7 DEZENAS + 3 UNIDADES = _____

3. COMPLETE A SEQUÊNCIA NUMÉRICA A SEGUIR:

0							7		
10					15				
	21					26			
30	31								
		42		44					
50			53					58	59
	61				65		67		
70						76	77	78	
	81	82							89
90			93						99

Escola _____

Aluno: _____

Data: ____/____/____ Professor(a): _____

Matemática – 3º Ano

4. RESOLVA AS ADIÇÕES A SEGUIR:

$$\begin{array}{r} 59 \\ + 9 \\ \hline \end{array}$$

$$\begin{array}{r} 23 \\ + 9 \\ \hline \end{array}$$

$$\begin{array}{r} 37 \\ + 3 \\ \hline \end{array}$$

$$\begin{array}{r} 28 \\ + 2 \\ \hline \end{array}$$

$$\begin{array}{r} 34 \\ + 9 \\ \hline \end{array}$$

$$\begin{array}{r} 32 \\ + 4 \\ \hline \end{array}$$

$$\begin{array}{r} 67 \\ + 4 \\ \hline \end{array}$$

$$\begin{array}{r} 28 \\ + 3 \\ \hline \end{array}$$

5. RESOLVA AS SUBTRAÇÕES A SEGUIR:

$$\begin{array}{r} 46 \\ - 31 \\ \hline \end{array}$$

$$\begin{array}{r} 22 \\ - 11 \\ \hline \end{array}$$

$$\begin{array}{r} 37 \\ - 01 \\ \hline \end{array}$$

$$\begin{array}{r} 55 \\ - 41 \\ \hline \end{array}$$

$$\begin{array}{r} 46 \\ - 31 \\ \hline \end{array}$$

$$\begin{array}{r} 53 \\ - 03 \\ \hline \end{array}$$

$$\begin{array}{r} 66 \\ - 15 \\ \hline \end{array}$$

$$\begin{array}{r} 17 \\ - 04 \\ \hline \end{array}$$

$$\begin{array}{r} 54 \\ - 40 \\ \hline \end{array}$$

$$\begin{array}{r} 61 \\ - 30 \\ \hline \end{array}$$

AVALIAÇÃO DE
MATEMÁTICA PARA O
3º ANO
1º BIMESTRE

CANTINHO DO SABER



[CLIQUE AQUI](#)

PARA OUTROS MODELOS