

ALUNO: _____


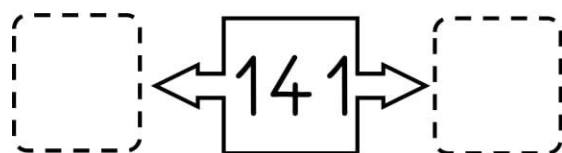
TURMA: _____ DATA: ____ / ____ / ____

DIAGNÓSTICA DE MATEMÁTICA- 3º ANO

1- COMPLETE A SEQUENCIA NUMÉRICA

100						106			
	111								
				124					
		132							139
140									
						155			
160									
			173						
							187		
								198	

2- COMPLETE COM OS VIZINHOS



3- RESOLVA AS OPERAÇÕES

$$\begin{array}{r} 72 \\ + 23 \\ \hline \end{array}$$

$$\begin{array}{r} 124 \\ + 135 \\ \hline \end{array}$$

$$\begin{array}{r} 85 \\ - 45 \\ \hline \end{array}$$

$$\begin{array}{r} 97 \\ - 34 \\ \hline \end{array}$$

AVALIAÇÃO DIAGNÓSTICA

3º ANO MATEMÁTICA

CANTINHO DO SABER



[CLIQUE AQUI](#)

PARA OUTROS MODELOS

4- OBSERVE O CALENDÁRIO PINTE O DIA DE HOJE DE AZUL E RESPONDA:

QUANTOS SÁBADOS TEM ESSE MÊS?:

FEVEREIRO						
D	S	T	Q	Q	S	S
	1	2	3	4	5	6
7	8	9	10	11	12	13
14	15	16	17	18	19	20
21	22	23	24	25	26	27
28						

QUAL O ÚLTIMO DIA DO MÊS?:

QUE DIA DA SEMANA SERÁ O DIA 12?

5- SITUAÇÕES PROBLEMA:


A) SEU CARLOS FAZ PIPAS PARA VENDER. ELE FEZ 52 PIPAS AMARELAS E 35 VERMELHAS. QUANTAS PIPAS SEU CARLOS FEZ NO TOTAL?

R: SEU CARLOS FEZ _____ PIPAS.

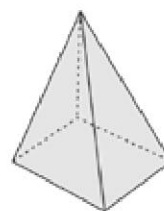
B) HAVIA NA FESTA 78 BANDEIRINHAS. NO FINAL TINHAM RASGADO 34 BANDEIRINHAS. QUANTAS SOBRARAM?

R: SOBRARAM _____ BANDEIRINHAS.

6- LIGUE CADA SÓLIDO GEOMÉTRICO AO SEU NOME:



CUBO



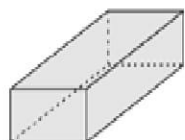
PARALELEPÍPEDO



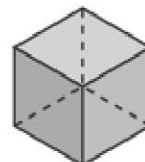
ESFERA



PIRÂMIDE

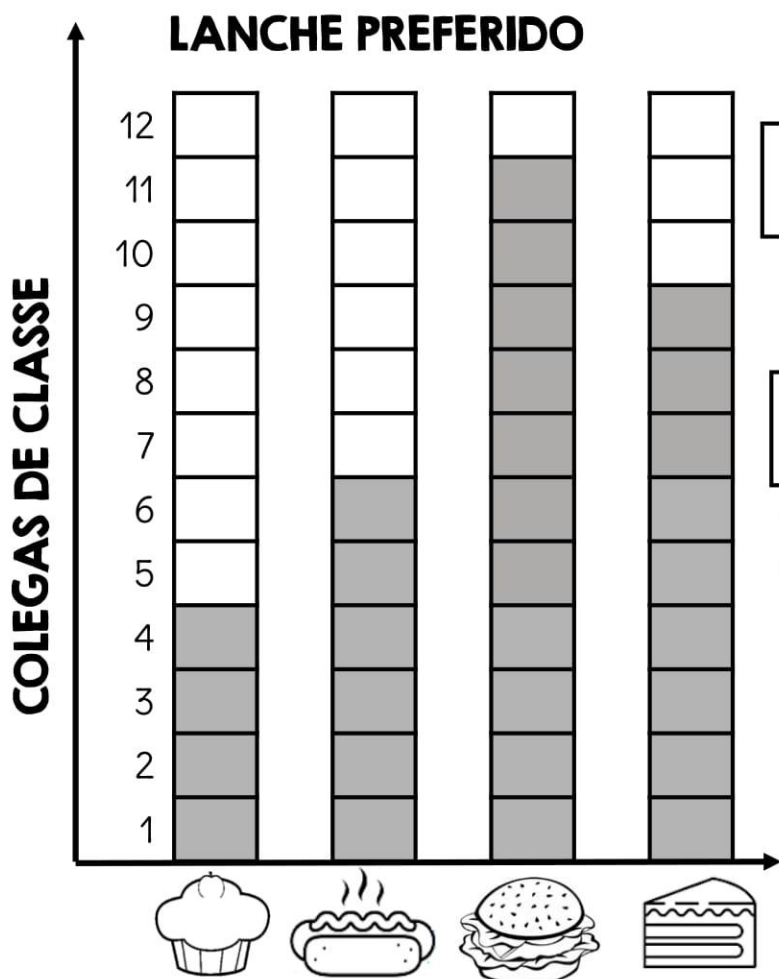


CILINDRO



CONE

7- MARIANA FEZ UMA PESQUISA COM SEUS COLEGAS DE CLASSE PARA SABER QUAL LANCHE ELES MAIS GOSTAVAM. VEJA COMO FICOU.



1-QUAL LANCHE FOI MAIS VOTADO?

2-QUAL LANCHE FOI MENOS VOTADO?

3-QUANTAS CRIANÇAS PREFERIRAM BOLO?

4-QUANTAS CRIANÇAS PARTICIPARAM DA PESQUISA?

AVALIAÇÃO DIAGNÓSTICA

3º ANO MATEMÁTICA

CANTINHO DO SABER



[CLIQUE AQUI](#)

PARA OUTROS MODELOS