

ALUNO: \_\_\_\_\_

TURMA: \_\_\_\_\_ DATA: \_\_\_\_ / \_\_\_\_ / \_\_\_\_



## DIAGNÓSTICA DE LÍNGUA PORTUGUESA - 4º ANO

1- LEIA O TEXTO COM ATENÇÃO:

### **A ONÇA E O SAPO**

UM DIA, O SAPO ESTAVA À BEIRA DA LAGOA E CHEGOU A ONÇA.

\_\_ NUNCA VI BICHO TÃO FEIO E PEQUENO!

\_\_ DONA ONÇA, EU SEI QUE SOU FEIO E PEQUENO, MAS SOU MUITO VALENTE.

\_\_ AH! ENTÃO VOCÊ É VALENTE? VAMOS VER QUEM ASSUSTA MAIS OS BICHOS DA FLORESTA!

A ONÇA URROU O MAIS QUE PÔDE. A BICHARADA TODA ESCONDEU-SE NO MATO.

\_\_ AGORA, SAPO, É A SUA VEZ. VAMOS, COAXE!

O SAPO ENTÃO COAXOU.

IMEDIATAMENTE, RÃS, PERERECAS, JIAS E OUTROS SAPOS FIZERAM CORO.

A ONÇA LEVOU TAMANHO SUSTO QUE ATÉ HOJE ESTÁ CORRENDO PELA FLORESTA.

*LIDIA M. MORAES*

2 - DESENHE DE ACORDO COM AS FALAS:

NUNCA VI BICHO  
TÃO FEIO E  
PEQUENO!

DONA ONÇA, EU SEI QUE  
SOU PEQUENO E FEIO, MAS  
SOU MUITO VALENTE.

# **AVALIAÇÃO DIAGNÓSTICA**

## **4º ANO DE PORTUGUÊS**

**CANTINHO DO SABER**



**[CLIQUE AQUI](#)**

**PARA OUTROS MODELOS**

3- RESPONDA DE ACORDO COM O TEXTO:

a - QUAL O TÍTULO DA HISTÓRIA?

---

b - QUAIS ERAM OS PERSONAGENS PRINCIPAIS?

---

c - A ONÇA DISSE QUE O SAPO ERA.....

---

d - QUAL DESAFIO A ONÇA FEZ AO SAPO?

---


---

e - NO FIM O QUE ACONTECEU COM A ONÇA?

---

---

4- OBSERVE A TIRINHA E RESPONDA:



✓ OS PERSONAGENS ESTÃO CUIDANDO DE UMA PLANTA. EM QUE ELES ESTÃO PENSANDO?

a) MAGALI: \_\_\_\_\_

b) CEBOLINHA: \_\_\_\_\_

c) CASCÃO: \_\_\_\_\_

✓ SE VOCÊ FOSSE O PERSONAGEM, O QUE PLANTARIA?

---

-----

5- OBSERVE O PRODUTO E RESPONDA:

R\$  
6,39



a – QUE PRODUTO É ESSE?

---

B – COMO PODEMOS UTILIZAR ESSE PRODUTO?

---

C – ONDE PODEMOS ENCONTRAR ESSE PRODUTO?

---

D - QUAL É O SEU PREÇO ATUAL? \_\_\_\_\_

E- QUANTO PESA ESSE PRODUTO? \_\_\_\_\_

6 - LIGUE O TEXTO COM SEU GÊNERO

VENDO UMA CASA. 3  
DORM.  
SALA,  
COZINHA. R\$60000,00  
FALAR COM SORAIA  
FONE: 4567-8900

Era uma vez uma linda  
menina que morava  
com sua mãe. Ela era  
conhecida como  
Chapeuzinho Vermelho.

BOLO DE CHOCOLATE  
4 ovos  
2 xícaras de farinha de trigo  
1 xícara de óleo  
1 colher (sopa) de fermento

RECEITA

POESIA

LISTA

CONTO DE FADA

PROPAGANDA

BILHETE

ANÚNCIO

. MELANCIA  
. JACA  
. PERA  
. LARANJA

A FOCA  
QUER VER A FOCA  
FICAR FELIZ?  
É POR UMA BOLA  
NO SEU NARIZ.


16/06/2004  
Sueli,  
Amanhã  
não haverá aula  
Grata  
Luiza

USE SABÃO EM PÓ  
OMO  
PORQUE SE SUJAR FAZ  
BEM

## 7- PRODUÇÃO DE TEXTO:

VEJA O DIA A DIA DE ALGUMAS CRIANÇAS.

AGORA CONTE COMO É O SEU DIA A DIA:






ALUNO: \_\_\_\_\_

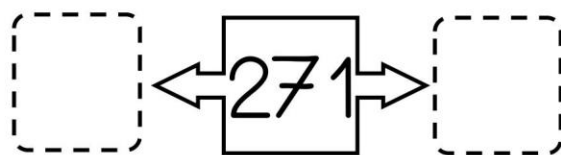

TURMA: \_\_\_\_\_ DATA: \_\_\_\_ / \_\_\_\_ / \_\_\_\_

## DIAGNÓSTICA DE MATEMÁTICA- 4º ANO

### 1- COMPLETE A SEQUENCIA NUMÉRICA

200						206			
	211								
				224					
		232							239
240									
					255				
260									
			273						
							287		
								298	

### 2- COMPLETE COM OS VIZINHOS



### 3- RESOLVA AS OPERAÇÕES

$$\begin{array}{r} 158 \\ + 237 \\ \hline \end{array}$$

$$\begin{array}{r} 229 \\ + 385 \\ \hline \end{array}$$

$$\begin{array}{r} 458 \\ - 154 \\ \hline \end{array}$$

$$\begin{array}{r} 972 \\ - 346 \\ \hline \end{array}$$

4- OBSERVE OS NÚMEROS ESCRITOS POR RENATA:

**408, 849, 740, 509.**

O MAIOR NÚMERO ESCRITO POR RENATA É:

- ( A ) 408                      ( B ) 849                      ( C ) 740                      ( D ) 509
- 

5- OBSERVE OS NÚMEROS ESCRITOS POR RODRIGO:

**363, 691, 149, 408.**

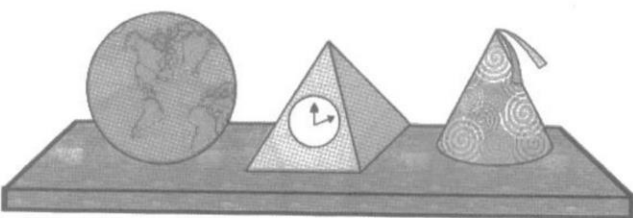
O MENOR NÚMERO ESCRITO POR RODRIGO É:

- ( A ) 363                      ( B ) 691                      ( C ) 149                      ( D ) 408
- 

6- O NÚMERO MIL TREZENTOS E CINCO PODE SER ESCRITO DA SEGUINTE FORMA:

- ( A ) 1000 300 5                      ( B ) 1.350                      ( C ) 1.305                      ( D ) 1.005
- 

7- NA ESTANTE DA PROFESSORA ESTER HÁ OBJETOS QUE LEMBRAM FORMAS GEOMÉTRICAS.



OS OBJETOS DA ESTANTE TÊM A FORMA DE:

- ( A ) ESFERA, PIRÂMIDE E CILINDRO  
( B ) ESFERA, PIRÂMIDE E CONE  
( C ) ESFERA, CONE E CILINDRO  
( D ) ESFERA, CONE E PRISMA
- 

8- MARIA COMPROU UM SUCO DE MARACUJÁ, UM LEITE LONGA VIDA, UM PACOTE DE PÃO TORRADO E UM PACOTE DE CAFÉ. NA HORA DE PAGAR CONSULTOU A TABELA DE PREÇOS E DEU R\$ 50,00 AO CAIXA. QUANTO RECEBEU DE TROCO?

PRODUTO	PREÇO
SUCO DE MARACUJÁ	R\$ 6,50
LEITE LONGA VIDA	R\$ 5,00
PACOTE DE PÃO TORRADO	R\$ 7,20
PACOTE DE CAFÉ	R\$ 9,50

MARIA RECEBEU \_\_\_\_\_ DE TROCO.

---



# **AVALIAÇÃO DIAGNÓSTICA**

## **4º ANO DE PORTUGUÊS**

**CANTINHO DO SABER**



**[CLIQUE AQUI](#)**

**PARA OUTROS MODELOS**

9- ARME E EFETUE:

$387 + 129 =$	$454 + 391 =$	$487 + 296 =$	$879 - 654 =$	$871 - 248 =$
$54 \times 5 =$	$132 \times 4 =$	$168 \times 2 =$	$64 : 4 =$	$128 : 4 =$

11- EM UMA CRECHE HÁ 273 CRIANÇAS. CADA UMA TEM 4 BRINQUEDOS PARA BRINCAR. QUANTOS BRINQUEDOS HÁ AO TODO?

AO TODO HÁ \_\_\_\_\_ BRINQUEDOS

---

12- UMA ESCOLA TEM 192 ALUNOS MATRICULADOS NO 4º ANO. PARA FORMAR 8 TURMAS, TODAS COM A MESMA QUANTIDADE DE ALUNOS, QUANTOS ALUNOS DEVE TER CADA UMA DAS TURMAS?

CADA UMA DAS TURMAS TERÁ \_\_\_\_\_ ALUNOS.

---

13- RENATO TEM 120 SELOS BRASILEIROS, 44 SELOS ARGENTINOS E 13 SELOS FRANCESES. QUANTOS SELOS ELE TEM?

RENATO TEM \_\_\_\_\_ SELOS.

---