



NOME: _____ TURMA: _____

ATIVIDADE DIAGNÓSTICA DE MATEMÁTICA

1-OBSERVE AS FRUTAS QUE A DONA CLAUDIA COMPROU. MARQUE A LETRA QUE INDICA A FRUTA MAIS PESADA.



2- VEJA O DESENHO QUE CLARA FEZ. A FIGURA QUE REPRESENTA A CABECINHA DOS BONEQUINHOS É:







A- () QUADRADO

B- () RETÂNGULO

C- () TRIÂNGULO

D- () CIRCULO

3 - FAÇA UM X NO QUADRINHO QUE REPRESENTA A PESSOA MAIS ALTA :



AVALIAÇÃO DIAGNÓSTICA

1º ANO MATEMÁTICA

CANTINHO DO SABER



[CLIQUE AQUI](#)

PARA OUTROS MODELOS

NOME: _____ TURMA: _____

4- FAÇA UM X NO QUADRINHO QUE INDICA A CAMISA MAIS ESTREITA:



A)



B)



C)



D)

5-FAÇA UM X NO QUADRADINHO DO OBJETO QUE USAMOS PARA VER A HORA.

(A)



(B)

ABRIL 2011									
						1	2		
3	4	5	6	7	8	9			
10	11	12	13	14	15	16			
17	18	19	20	21	22	23			
24	25	26	27	28	29	30			

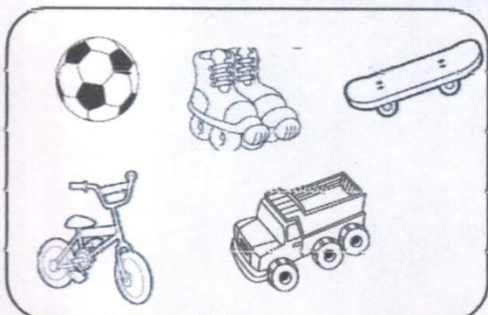
(C)



(D)



6- VEJA OS BRINQUEDOS QUE CARLOS GANHOU NO ANIVERSÁRIO;



A QUANTIDADE DE BRINQUEDOS QUE CARLOS GANHOU É:

A- () 3

B- () 4

C- () 5

D- () 6

NOME: _____ TURMA: _____

7- VEJA OS CARRINHOS QUE PEDRO COMPROU



FAÇA UM X NO QUADRINHO QUE INDICA QUANTOS CARRINHOS PEDRO COMPROU:

- A) 8 B) 13 C) 12 D) 9

8- CARLOS TEM 6 BOLAS DE FUTEBOL. ELE VAI DAR 4 PARA SEU COLEGA JULIANO.

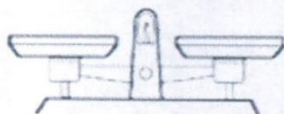


FAÇA UM X NA OPÇÃO QUE MOSTRA COM QUANTAS BOLAS CARLOS VAI FICAR.

- A) 3 B) 4 C) 5 D) 2

9- FAÇA UM X NA LETRA QUE INDICA O INSTRUMENTO QUE USAMOS PARA MEDIR A FEBRE.

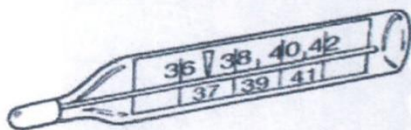
A- ()



B- ()



C- ()



D- ()

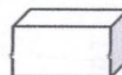


10- MARQUE A LETRA QUE INDICA A FIGURA GEOMÉTRICA QUE TEM A FORMA DA BOLA DE FUTEBOL

A- ()




B- ()



C- ()



D- ()



AVALIAÇÃO DIAGNÓSTICA

1º ANO MATEMÁTICA

CANTINHO DO SABER



[CLIQUE AQUI](#)

PARA OUTROS MODELOS