

ANÁLISE DE APRENDIZAGEM DE MATEMÁTICA 1º BIMESTRE

ALUNO(A): \_\_\_\_\_

PROFESSOR(A): \_\_\_\_\_


SÉRIE: \_\_\_\_\_

TURNO: \_\_\_\_\_

DATA: \_\_\_/\_\_\_/\_\_\_


**QUESTÃO 01**

OBSERVE OS COLEGUINHAS E CIRCULE O MAIS ALTO.(D24)



**QUESTÃO 02**

NO QUINTAL DA VOVÓ ANA HAVIA 4 PINTINHOS E 6 PATINHOS . QUANTAS AVES HAVIA AO TODO?(D10)



- (A) 7 AVES      (C) 9 AVES  
(B) 8 AVES      (D) 10 AVES

**QUESTÃO 03**

OBSERVE NA TABELA ABAIXO O NÚMERO DE FIGURINHAS QUE ALGUMAS CRIANÇAS TÊM.(D30)

| CRIANÇA      | FIGURINHAS |
|--------------|------------|
| PEDRO LUIZ   | 7          |
| MARIA RITA   | 9          |
| ANA MARIA    | 8          |
| TALITA LAYLA | 10         |

✓ A CRIANÇA QUE TEM O MAIOR NÚMERO DE FIGURINHA É:

- (A) PEDRO LUIZ                      (C) ANA MARIA  
(B) MARIA RITA                      (D) TALITA LAYLA

# **AVALIAÇÃO DE MATEMÁTICA PARA O**

## **4º ANO**

## **1º BIMESTRE**

### **CANTINHO DO SABER**



**[CLIQUE AQUI](#)**

**PARA OUTROS MODELOS**

#### QUESTÃO 04


OBSERVE AS ESTRELAS QUE ANA LUÍSA DESENHOU E PINTE TRÊS. QUANTAS ESTRELAS FICARAM SEM PINTAR?(D10)



- (A) 2 ESTRELAS.      (C) 3 ESTRELAS.  
(B) 4 ESTRELAS.      (D) 5 ESTRELAS.

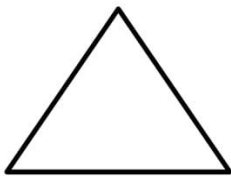
#### QUESTÃO 05

CIRCULE O OBJETO MAIS CARO.(D28)



#### QUESTÃO 06

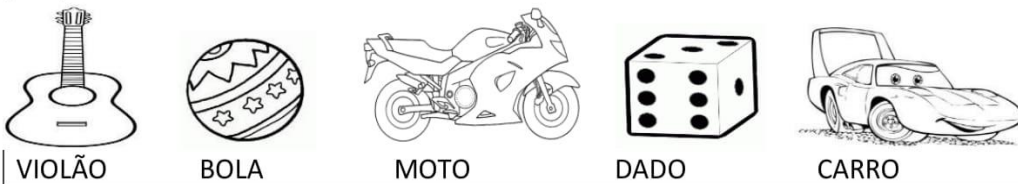
MARQUE O NOME DA FIGURA GEOMÉTRICA PLANA APRESENTADA NO DESENHO ABAIXO.(D19)



- (A) CIRCULO  
(B) TRIÂNGULO  
(C) QUADRADO  
(D) RETÂNGULO

#### QUESTÃO 07

LUÍS GUSTAVO ORGANIZOU SEUS BRINQUEDOS EM UMA PRATELEIRA, COMO MOSTRA O DESENHO ABAIXO. (D24)



QUAL BRINQUEDO ESTÁ PERTO DO CARRO?

- (A) A MOTO.      (C) O DADO.  
(B) A BOLA.      (D) O VIOLÃO.

### QUESTÃO 08

EM UMA SALA FORAM DISTRIBUÍDAS AS SEGUINTESENHAS DE ATENDIMENTO: (D4)

10 11 12  14 15 16  18

QUAIS SÃO AS SENHAS QUE ESTÃO FALTANDO PARA COMPLETAR A SEQUÊNCIA?

- (A) 10 E 18.            (B) 11 E 17.  
(C) 15 E 18.            (D) 13 E 17.

### QUESTÃO 09


OBSERVE AS IMAGENS E MARQUE UM "X" NAS IMAGENS QUE ESTÃO SENDO VISTAS DE FRENTE.(D17)




PORCO



ELEFANTE



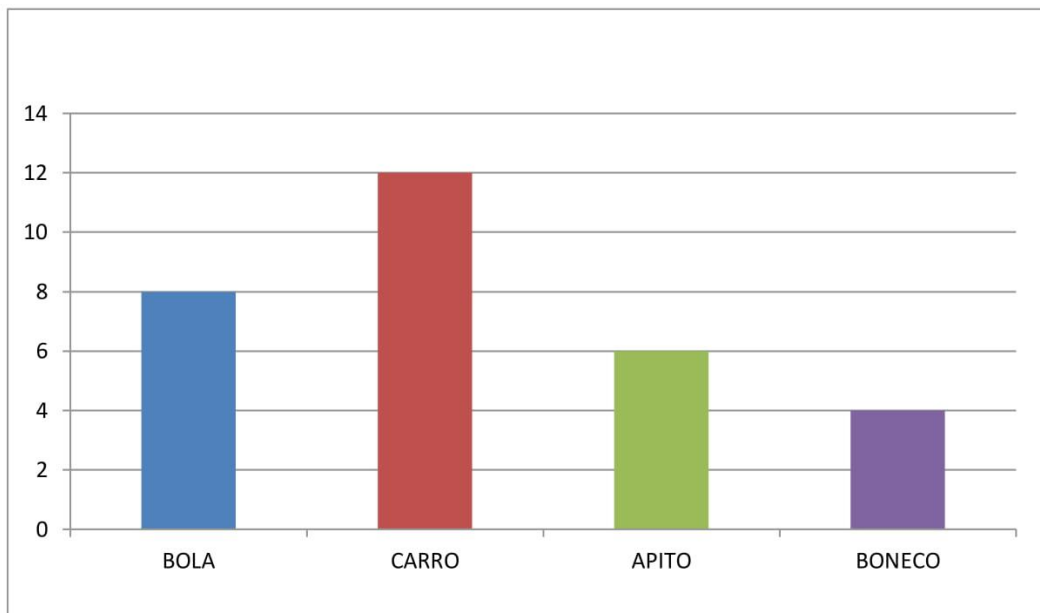
GATO



SAPO

### QUESTÃO 10

OBSERVE O TOTAL DE BRINQUEDOS DE LUÍS GUSTAVO NO GRÁFICO:



QUAL BRINQUEDO LUÍS GUSTAVO TEM MAIS?

- (A) BOLA.            (C) APITO.  
(B) CARRO.            (D) BONECO.

**BOA SORTE!!!!**